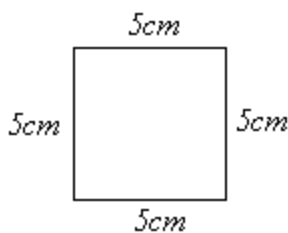


1/ Honzík dostal za domácí úkol narysovat obdélník, jehož delší strana má mít 6,8cm a kratší strana pouze poloviční délku. Pomůžeš mu, aby nedostal z úkolu pětku?

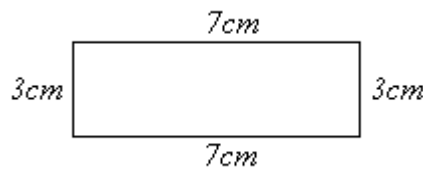
2/ Urči :

- a) Jak se nazývají přímky, které mezi sebou svírají pravý úhel?
- b) Kolik společných bodů mají rovnoběžné přímky?
- c) Kolik společných bodů mohou mít různoběžky?
- d) Co je to polopřímka?

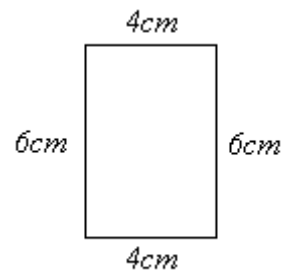
3/ Vypočítej obvody a zakroužkuj, který je největší :



A)



B)



C)

Výpočet: