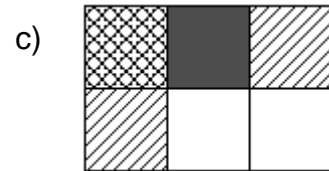
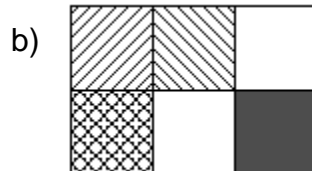
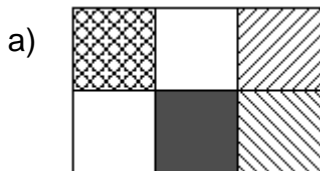
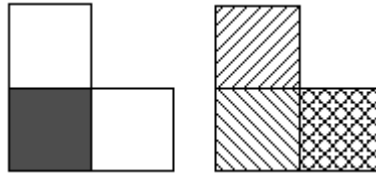


1/ Vypiš a načrtni všechny druhy trojúhelníků, které znáš :

2/ Jaká kombinace vznikne, pokud spojíme tyto dva obrazce? :



3/ Sestroj přímku p . K této přímce narýsuj rovnoběžnou úsečku $|KL| = 5 \text{ cm}$, na této úsečce vyznač střed S a ze středu ved' kolmici k , která bude protínat přímku p :