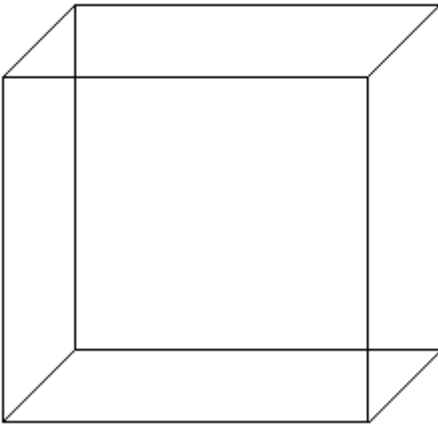


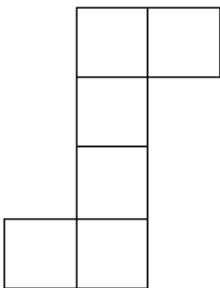
1/ Monika a Klára mají za domácí úkol narýsovat krychli stejnou jako na obrázku, ale nevědí jak na to. Pomůžeš jim?



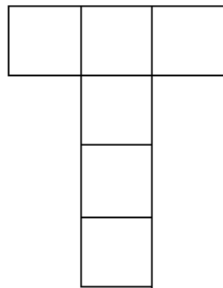
2/ Napiš vzorec pro výpočet obvodu, v jakých jednotkách můžeme obvody měřit ? :

- a) Čtverec :
- b) Obdélník :
- c) Trojúhelníku

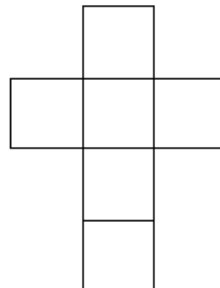
3/ Ze které z těchto sítí sestavíme krychli ? :



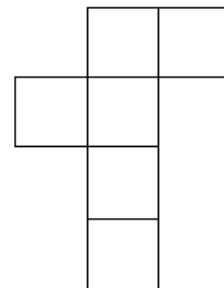
1.



2.



3.



4.